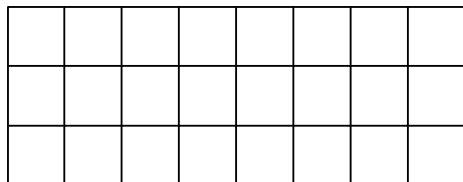


Para contar las baldosas que hay en cada piso, Lautaro hizo estas cuentas. **Unan** cada cuenta con el piso que le corresponde.

3×4



$3 + 3$

4×3

8×3


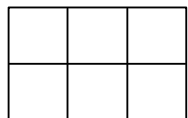
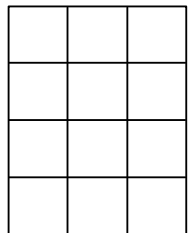
$3 + 3 + 3 + 3 + 3 + 3 + 3 + 3$

4×5

3×8

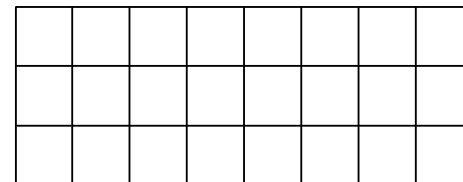
$2 + 2 + 2$

5×4



Para contar las baldosas que hay en cada piso, Lautaro hizo estas cuentas. **Unan** cada cuenta con el piso que le corresponde.

3×4



$3 + 3$

4×3

8×3

$3 + 3 + 3 + 3 + 3 + 3 + 3 + 3$

4×5

3×8

$2 + 2 + 2$

5×4

