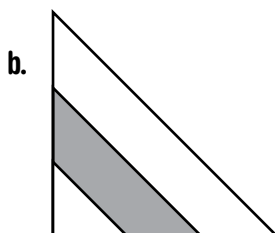
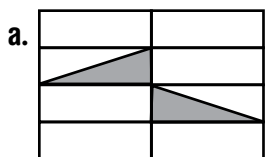
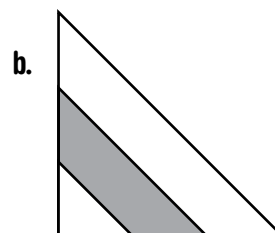
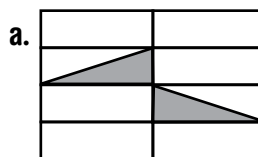
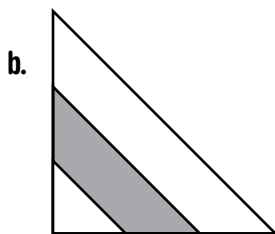
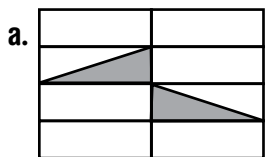


M 5 Encontrar la parte**1** Esta es la tira unidad.**a.** Dibujen una tira que mida $\frac{2}{5}$ de la unidad.**b.** Dibujen una tira que mida $\frac{8}{5}$ de la unidad.**2** Indiquen, en cada caso, qué parte de la figura está pintada de rojo.

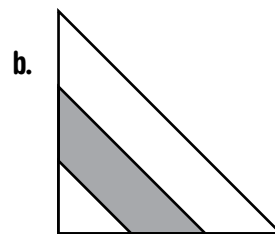
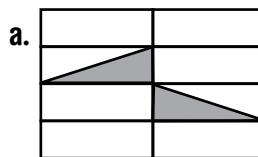
.....
.....
.....

M 5 Encontrar la parte**1** Esta es la tira unidad.**a.** Dibujen una tira que mida $\frac{2}{5}$ de la unidad.**b.** Dibujen una tira que mida $\frac{8}{5}$ de la unidad.**2** Indiquen, en cada caso, qué parte de la figura está pintada de rojo.

.....
.....
.....

M 5 Encontrar la parte**1** Esta es la tira unidad.**a.** Dibujen una tira que mida $\frac{2}{5}$ de la unidad.**b.** Dibujen una tira que mida $\frac{8}{5}$ de la unidad.**2** Indiquen, en cada caso, qué parte de la figura está pintada de rojo.

.....
.....
.....

M 5 Encontrar la parte**1** Esta es la tira unidad.**a.** Dibujen una tira que mida $\frac{2}{5}$ de la unidad.**b.** Dibujen una tira que mida $\frac{8}{5}$ de la unidad.**2** Indiquen, en cada caso, qué parte de la figura está pintada de rojo.

.....
.....
.....